

2-A

ずけい

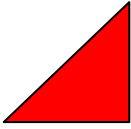
Figuras Geométricas

série classe / nome

年 組 / なまえ

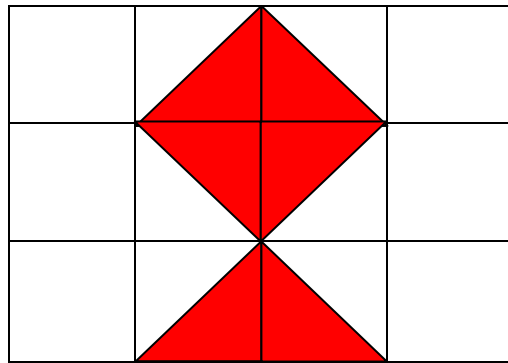
1、いたをならべて つぎの かたちをつります。

Vamos fazer a seguinte figura, juntando as placas triangulares.



のいたが なんまい いるでしょうか。

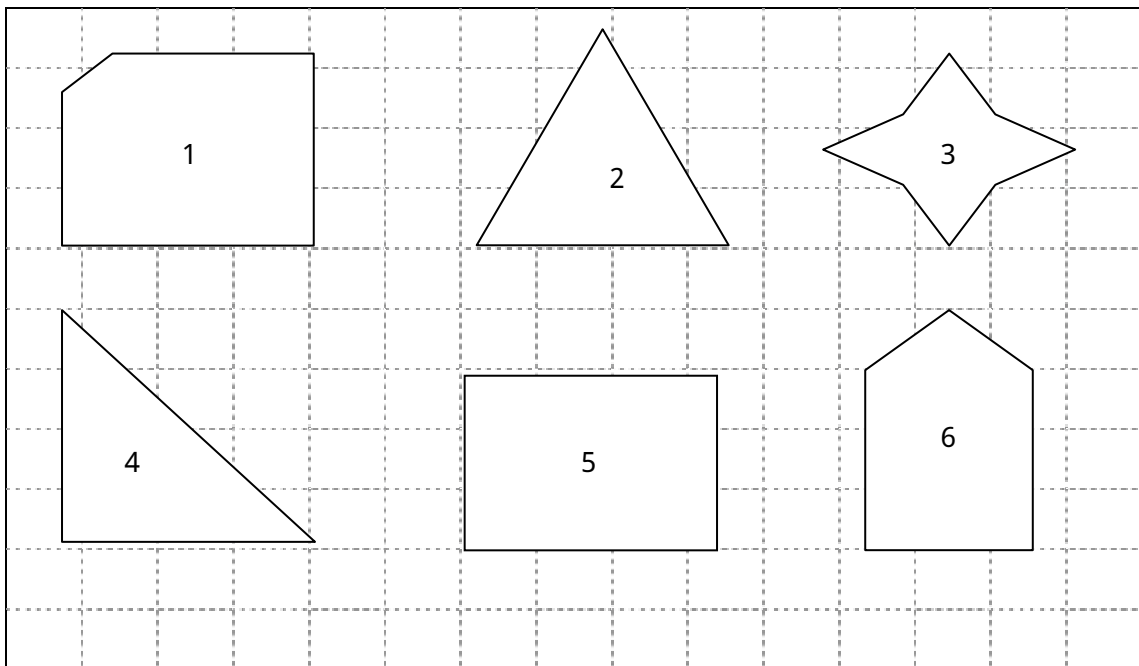
Quantas placas será que vamos precisar ?



まい

2、^{した}下の ^{なか}かたちの ^{さんかくけい}中から ^{し かくけい}三角形や ^み四角形を ^み見つけましょう。

Vamos encontrar entre as figuras abaixo, os triângulos e os quadriláteros.



^{さんかくけい}三角形 triângulo

^{し かくけい}四角形 quadrilátero