

5 - B

図形

Figuras Geométricas

série classe / nome

年 組 / 名前

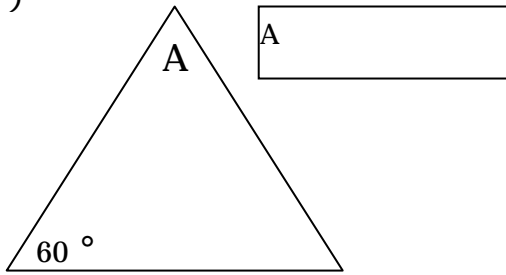
1、下の図の A, B の大きさはそれぞれ何度でしょうか。

Quantos graus será que tem cada ângulo A e B das ilustrações abaixo?

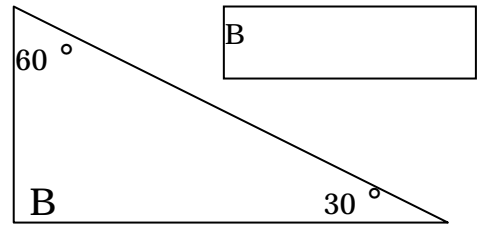
さんかくけい かく ごとけい
三角形の3つの角の合計は 180° です。

A soma dos três ângulos de um triângulo é 180°.

(1)



(2)



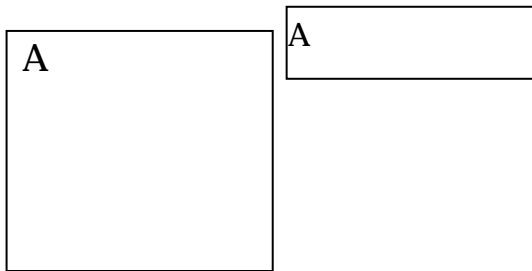
2、下の図の A, B の大きさはそれぞれ何度でしょうか。

Quantos graus será que tem cada ângulo A e B das ilustrações abaixo?

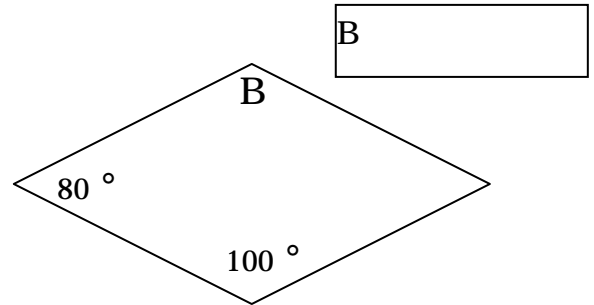
しかくけい かく ごとけい
四角形の4つの角の合計は 360° です。

A soma dos quatro ângulos de um quadrilátero é 360°.

(1)



(2)



3、下の図の続きを書いて、平行四辺形を完成させましょう。

Vamos completar o paralelograma, desenhando a continuação da ilustração abaixo.

